

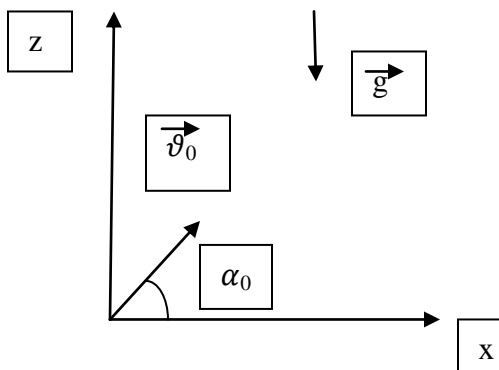
Predmet: Fizika 1

Računske vežbe (Termin: 27.3.2020)

Predmetni asistent na računskim vežbama: Violeta Stanković

1. Telo je bačeno pod uglom od 60° prema horizontu, brzinom $v_0=20$ m/s.
 - a) Pod kojim će se uglom, prema horizontu, kretati telo posle 1.5s i posle 2.5 s od početka kretanja?
 - b) Posle koliko vremena i na kojoj visini će se telo kretati pod uglom od 45° u odnosu na horizont?

Rešenje:



$$t_1=1.5 \text{ s}$$

$$t_2=2.5 \text{ s}$$

$$\alpha=?$$

$$h=?$$

$m \cdot \frac{d^2}{dt^2} \vec{r} = m \cdot \vec{g}$ (polazimo od Drugog Njutnovog zakona kako bismo izveli formule za trajektoriju odnosno položaj tela, u svakom vremenskom trenutku)

$\frac{d^2}{dt^2} z = -g$ (integracijom ovog izraza dobija se izraz za z komponentu brzine tela

$\frac{d}{dt} (z) = -gt + C_1$ (integraciona konstanta se određuje iz početnih uslova zadatka, u ovom slučaju u početnom trenutku telo je imalo početnu brzinu , pa će integraciona konstanta C_1 biti jednaka z komponenti početne brzine (projekcija početne brzine na z osu je $v_0 \cdot \sin \alpha$) odnosno $C_1 = v_0 \cdot \sin \alpha$)

Predmet: Fizika 1

Računske vežbe (Termin: 27.3.2020)

Predmetni asistent na računskim vežbama: Violeta Stanković

$z = -gt^2/2 + v_0 \sin \alpha_0 t + C_2$ (integraciona konstanta C_2 je jednaka nuli budući da se telo u početnom trenutku nalazilo na Zemlji)

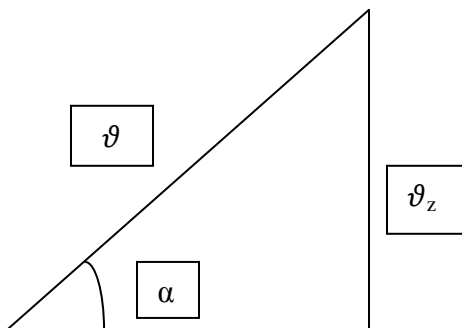
$z = -gt^2/2 + v_0 \sin \alpha_0 t$ (z komponenta radijus vektora bačenog tela)

Analogno nalaženju z komponente, nalazimo x komponentu radijus vektora bačenog tela:

$\frac{d^2}{dt^2}(x) = 0$ (projekcija jedine sile koja deluje na telo, gravitaciona sila, jednaka je nuli)

$\frac{d}{dt}(x) = C_2$ (u početnom trenutku x komponenta brzine jednaka je x komponenti početne brzine tj $C_2 = v_0 \cos \alpha_0$)

$x(t) = v_0 \cos \alpha_0 t$ (integraciona konstanta C_3 jednaka je nuli jer se telo u početnom trenutku nalazilo na nivou zemlje)



$$\operatorname{tg} \alpha = v_z / v_x$$

$$\operatorname{tg} \alpha = \frac{\frac{dz}{dt}}{\frac{dx}{dt}} = \frac{-gt + v_0 \sin \alpha_0}{v_0 \cos \alpha_0}$$

$$\alpha = \operatorname{arc} \operatorname{tg} \left(\frac{-gt + v_0 \sin \alpha_0}{v_0 \cos \alpha_0} \right)$$

$$\alpha_1(t_1) = 14.68^\circ$$

$$\alpha_1(t_1) = -35.67^\circ$$

$\alpha = 45^\circ$ (iz sledeće jednačine nalazimo vreme koje je potrebno telu da se kreće pod uglom od 45°)

Konsultacije petkom od 12 do 14 časova na e-mail violeta.stankovic@ff.bg.ac.rs

Predmet: Fizika 1

Računske vežbe (Termin: 27.3.2020)

Predmetni asistent na računskim vežbama: Violeta Stanković

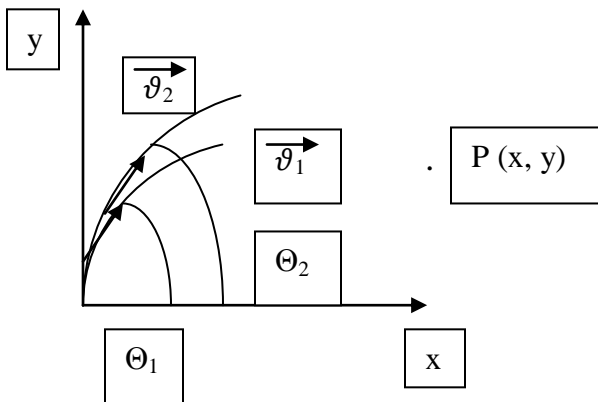
$$\operatorname{tg} \alpha = \frac{\frac{dz}{dt}}{\frac{dx}{dt}} = \frac{-gt + v_0 \sin \alpha_0}{v_0 \cos \alpha_0} = -gt/v_0 \cos \alpha_0 + \operatorname{tg} \alpha_0$$

$$t = (v_0 \cos \alpha_0 / g) * (\operatorname{tg} \alpha_0 - \operatorname{tg} \alpha) = 0.746^\circ$$

$$h = z(t) = 10.2 \text{ m}$$

2. Top ispaljuje dve granate brzinom $v_0=250 \text{ m/s}$. Prvu pod uglom $\theta_1=60^\circ$ a drugu pod uglom od $\theta_2=45^\circ$, u odnosu na horizont. Zanimajući otpor vazduha, naći vremenski interval između ispaljivanja u odnosu na sudar granata.

Rešenje:



Dve granate su ispaljene pod uglovima od 60° i 45° , jednakom početnom brzinom. Nakon nekog vremena dve granate će se sudariti u tački P čije su koordinate date kao (x, y) .

Predmet: Fizika 1

Računske vežbe (Termin: 27.3.2020)

Predmetni asistent na računskim vežbama: Violeta Stanković

Handwritten derivation for the first projectile's motion. The equations are:

$$m \frac{d^2 \vec{r}_1}{dt^2} = m \vec{g} \quad (\vec{e}_x, \vec{e}_y)$$
$$\frac{d^2 x_1}{dt^2} = 0$$
$$\frac{dx_1}{dt} = v_0 \cos \theta_1$$
$$x_1(t) = v_0 \cos \theta_1 t + \frac{v_0^2 \sin^2 \theta_1}{2g}$$
$$\frac{d^2 y_1}{dt^2} = -g$$
$$\frac{dy_1}{dt} = -gt + v_0 \sin \theta_1$$
$$y_1(t) = -\frac{gt^2}{2} + v_0 \sin \theta_1 t + \frac{v_0^2 \sin^2 \theta_1}{2g}$$

Handwritten derivation for the second projectile's motion. The equations are:

$$\frac{dx_2}{dt} = 0$$
$$\frac{dx_2}{dt} = v_0 \cos \theta_2$$
$$x_2(t - \Delta t) = v_0 \cos \theta_2 (t - \Delta t) + \frac{v_0^2 \sin^2 \theta_2}{2g}$$

Handwritten derivation for the second projectile's vertical motion. The equations are:

$$\frac{d^2 y_2}{dt^2} = -g$$
$$\frac{dy_2}{dt} = -g(t - \Delta t) + v_0 \sin \theta_2$$
$$y_2(t - \Delta t) = -\frac{g}{2}(t - \Delta t)^2 + v_0 \sin \theta_2 (t - \Delta t) + \frac{v_0^2 \sin^2 \theta_2}{2g}$$

Na slici levo možete videti način izvođenja x i y komponente radijus vektora prve granate. Dok na slici desno takođe možete videti način izvođenja x i y komponente radijus vektora druge granate. Obratite pažnju da x i y komponenta druge granate zavise od vremenskog trenutka predstavljenog kao $t - \Delta t$ budući da je druga granata ispaljena nakon vremena Δt u odnosu na prvo tela.

U trenutku sudara prva i druga granata imaju jednake koordinate tj $x_1 = x_2$ i $y_1 = y_2$. Iz jednakosti $x_1 = x_2$ dobija se vreme t koje je potrebno prvoj granati da stigne u tačku P i sudari se sa drugom granatom, u odnosu na početni trenutak. Iz druge jednakosti dobija se interval između ispaljivanja a u odnosu na trenutak sudara, Δt .

Na slici ispod možete videti način dobijanja vremena t .

Predmet: Fizika 1

Računske vežbe (Termin: 27.3.2020)

Predmetni asistent na računskim vežbama: Violeta Stanković

$x_1(t) = x_2(t - \Delta t)$ - y uiperyunuy cygapa

$$v_0 \cos \theta_1 t = v_0 \cos \theta_2 (t - \Delta t)$$
$$\cos \theta_1 t - \cos \theta_2 t = -\cos \theta_2 \Delta t$$
$$t(\cos \theta_2 - \cos \theta_1) = \cos \theta_2 \Delta t$$

$$t = \frac{\cos \theta_2 \Delta t}{\cos \theta_2 - \cos \theta_1}$$

Zatim na sledećim slikama možete videti način dobijanja vremenskog intervala Δt .

$y_1(t) = y_2(t - \Delta t)$ - y uiperyunuy cygapa

$$-\frac{g}{2} t^2 + v_0 \sin \theta_1 t = -\frac{g}{2} (t - \Delta t)^2 + v_0 \sin \theta_2 (t - \Delta t)$$

$t^2 - 2t\Delta t + \Delta t^2$

$$-\frac{g}{2} \frac{\cos^2 \theta_2 \Delta t^2}{(\cos \theta_2 - \cos \theta_1)^2} + \frac{v_0 \sin \theta_1 \cos \theta_2 \Delta t}{\cos \theta_2 - \cos \theta_1} =$$
$$-\frac{g}{2} \frac{\cos^2 \theta_2 \Delta t^2}{(\cos \theta_2 - \cos \theta_1)^2} + \frac{g \cos \theta_2 \Delta t^2}{\cos \theta_2 - \cos \theta_1} - \frac{g}{2} \Delta t^2 - v_0 \Delta t \sin \theta_2$$
$$+ \frac{v_0 \sin \theta_2 \cos \theta_2 \Delta t}{\cos \theta_2 - \cos \theta_1}$$
$$v_0 \sin \theta_1 \cos \theta_2 \Delta t = g \cos \theta_2 \Delta t^2 - \frac{g}{2} \cos \theta_2 \Delta t^2 + \frac{g}{2} \cos \theta_1 \Delta t^2$$
$$- v_0 \sin \theta_2 \cos \theta_2 \Delta t + v_0 \sin \theta_2 \cos \theta_2 \Delta t$$
$$+ v_0 \sin \theta_2 \cos \theta_1 \Delta t$$

Predmet: Fizika 1

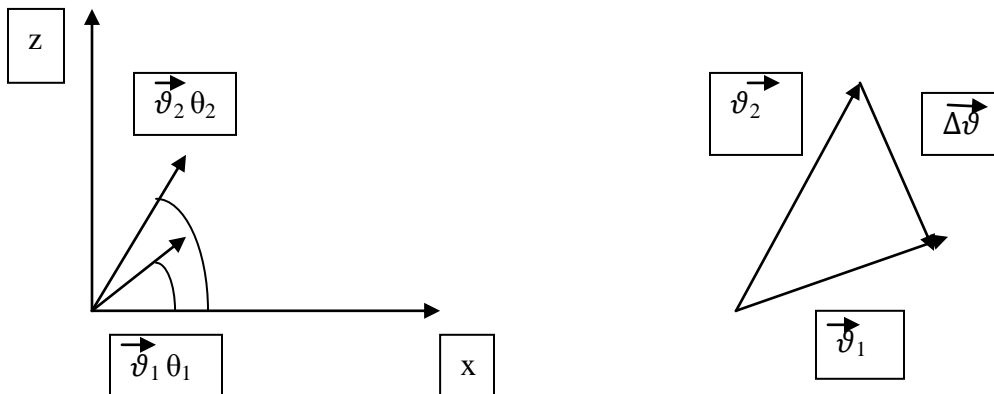
Računske vežbe (Termin: 27.3.2020)

Predmetni asistent na računskim vežbama: Violeta Stanković

$$\begin{aligned} v_0 \sin \theta_1 \cos \theta_2 \Delta t - v_0 \sin \theta_2 \cos \theta_1 \Delta t &= \frac{g}{2} \cos \theta_2 \Delta t^2 + \frac{g}{2} \cos \theta_1 \Delta t^2 \\ v_0 \Delta t (\sin(\theta_1 - \theta_2)) &= \frac{g}{2} \Delta t^2 (\cos \theta_2 + \cos \theta_1) \\ 2v_0 \Delta t \sin(\theta_1 - \theta_2) &= g \Delta t^2 (\cos \theta_2 + \cos \theta_1) \\ \Delta t [g \Delta t (\cos \theta_2 + \cos \theta_1) - 2v_0 \sin(\theta_1 - \theta_2)] &= 0 \\ \Delta t &= \frac{2v_0 \sin(\theta_1 - \theta_2)}{g(\cos \theta_2 + \cos \theta_1)} \end{aligned}$$

- 3. Dva tela su istovremeno bačena različitim brzinama i pod različitim uglovima prema horizontu. Pokazati da je za vreme kretanja njihova relativna brzina konstantna po pravcu i intenzitetu.**

Rešenje:



Na slici sa desne strane možemo da primetimo da je vektor relativne brzine $\vec{\Delta v}$, a vektor relativne brzine jeste razlika $\vec{v}_1 - \vec{v}_2$. Na način objašnjen u prethodnim zadacima dolazi se do x i z komponentiradijus vektora prvog i drugog tela. Budući da je ovde bitan vektor brzine, potrebno je naći x i z komponente brzine kretanja prvog i drugog tela.

Predmet: Fizika 1

Računske vežbe (Termin: 27.3.2020)

Predmetni asistent na računskim vežbama: Violeta Stanković

$$x_1(t_1) = v_{01} \cos \alpha_1 * t$$

$$z_1(t_1) = -gt^2/2 + v_{01} \sin \alpha_1 * t$$

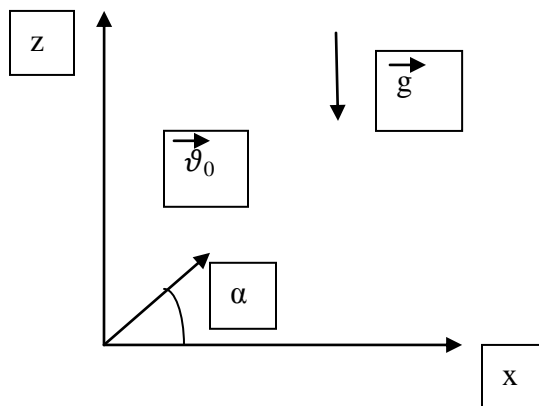
$$x_2(t_2) = v_{02} \cos \alpha_2 * t$$

$$z_2(t_2) = -gt_2^2/2 + v_{02} \cos \alpha_2 * t$$

$$|\Delta v| = |v_1 - v_2| = \left(\left(\frac{dx_1}{dt} - \frac{dx_2}{dt} \right)^2 + \left(\frac{dz_1}{dt} - \frac{dz_2}{dt} \right)^2 \right)^{1/2} =$$
$$= \left((v_{01} \cos \alpha_1 - v_{02} \cos \alpha_2)^2 + (v_{01} \sin \alpha_1 - v_{02} \sin \alpha_2)^2 \right)^{1/2}$$

4. Telo je bačeno sa Zemlje pod uglom α prema horizontu početnom brzinom v_0 . Zanimajući otpor vazduha odrediti:

- vreme kretanja**
- maksimalnu visinu do koje se telo popne, domet tela kao i ugao za koji su te dve veličine jednake**
- jednačinu trajektorije $z(x)$**



Na način prikazan u prethodnim zadacima dolazi se do x i z komponente radijus vektora.

$$x(t) = v_0 \cos \alpha * t$$

$$z(t) = -gt^2/2 + v_0 \sin \alpha * t$$

Predmet: Fizika 1

Računske vežbe (Termin: 27.3.2020)

Predmetni asistent na računskim vežbama: Violeta Stanković

Prvo je potrebno odrediti ukupno vreme kretanja tela. Dobija se kada se z komponenta radijus vektora izjednači sa nulom ($z(t=\tau)=0$) iz čega sledi da je $\tau=2\vartheta_0 \sin \alpha/g$.

Domet tela dobija se kada se u izrazu za x komponentu umesto vremena t zameni ukupno vreme kretanja tela $\tau=2\vartheta_0 \sin \alpha/g$, pa sledi da je $D = x(\tau)=\vartheta_0 \sin 2\alpha/g$.

Maksimalna visina do koje se telo popne dobija se kada se u izraz za z komponentu radijus vektora tela umesto vremena t zameni vreme koje je potrebno telu da dostigne maksimalnu visinu. Vreme koje je potrebno telu da dostigne maksimalnu visinu dobija se iz prvog izvoda, z komponente radijus vektora tela, po vremenu.

$$dz(t_1)/dt=0$$

$$t_1=\vartheta_0 \sin \alpha/g$$

$$z_{max}(t_1) = \vartheta_0 \sin^2 \alpha/2g$$

Ugao za koji su domet tela i maksimalna jednake dobija se izjednačavanjem pomenutih veličina.

$$z_{max}(t_1) = D = x(\tau)$$

$$\vartheta_0 \sin^2 \alpha/2g = \vartheta_0 \sin 2\alpha/g \text{ iz čega sledi da je } \alpha = \arctg(4) = 75.963^\circ$$

Jednačina trajektorije tela z(x) dobija se kada se vreme t u izrazu za z komponentu radijus vektora tela zameni komponentom x koja zavisi od vremena.

$$x(t) = \vartheta_0 \cos \alpha * t \text{ odakle sledi da je } t = x/\vartheta_0 \cos \alpha$$

$$z(x) = -g/2 * (x^2/\vartheta_0^2 \cos^2 \alpha) + \tg \alpha * x$$

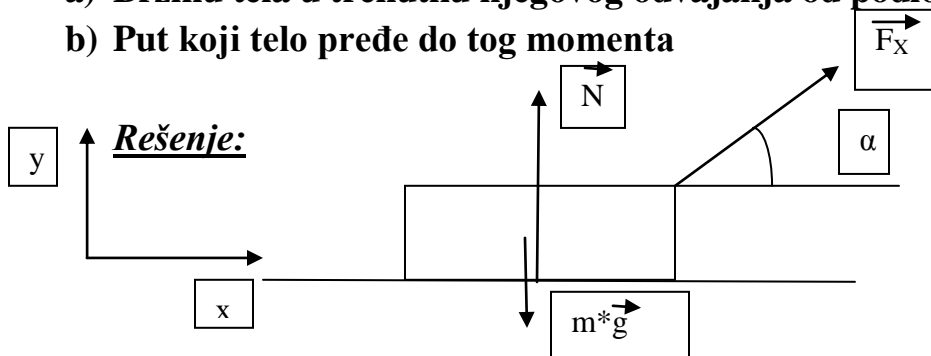
Predmet: Fizika 1

Računske vežbe (Termin: 27.3.2020)

Predmetni asistent na računskim vežbama: Violeta Stanković

5. Od početnog trenutka $t=0$ sila $F=at$ deluje na malo telo mase m koja se nalazi na glatkoj horizontalnoj površini (a je konstanta). Stalan smer sile zaklapa ugao α sa horizontalom. Naći:

- Brzinu tela u trenutku njegovog odvajanja od podloge
- Put koji telo pređe do tog momenta



$m \cdot a_y = N - mg + F \cdot \sin \alpha$ (Krenuvši od drugog Njutnovog zakona, primenjenog na sistem sa slike, dolazimo do jednačine u kojoj figuriše y komponenta ubrzanja kao i y projekcija svih sila koje deluju na telo.)

U datoj jednačini figuriše normalna sila koja je jednaka nuli u trenutku odvajanja tela od podloge, a y komponenta ubrzanja je takodje jednaka nuli jer nema kretanja po y osi. S tim u vezi, dobijamo da je $-m \cdot g = -a \cdot t \cdot \sin \alpha$ iz čega sledi da je $t = m \cdot g / a \cdot \sin \alpha$.

$$F_x = m \cdot \frac{d\vartheta_x}{dt} = a \cdot t \cdot \cos \alpha - x \text{ komponenta sile}$$

$m \cdot d\vartheta_x = a \cdot t \cdot \cos \alpha \cdot dt$ - zatim ovu jednakost integralimo, levu stranu jednakosti u granicama od 0 do ϑ , a desnu stranu jednakosti u granicama od 0 do t

$m \cdot \vartheta = (a \cdot t^2 / 2) \cdot \cos \alpha$ - izraz dobijen nakon integracije (umesto t zamenjujemo vreme odvajanja od podloge) iz koga sledi da je brzina

$$\vartheta = (m \cdot g^2 \cdot \cos \alpha) / (2 \cdot a \cdot \sin^2 \alpha).$$

$$ds = \vartheta \cdot dt$$

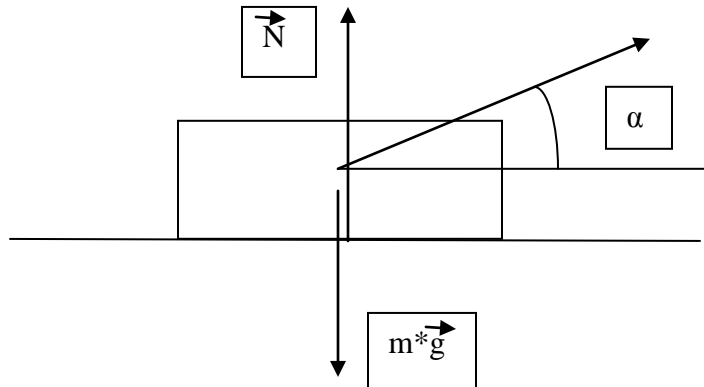
Predmet: Fizika 1

Računske vežbe (Termin: 27.3.2020)

Predmetni asistent na računskim vežbama: Violeta Stanković

$s = \int_0^t v dt = \int_0^t ((a * \cos \alpha * t^2) / 2m) dt = (m^2 * g^3 \cos \alpha) / (6 * a^2 * \sin^3 \alpha)$ - put koji pređe telo do zaustavljanja

6. Telo mase m , koje se nalazi na glatkoj horizontalnoj površini, kreće se pod uticajem sile $F = mg/3$ konstantnog intenziteta. Tokom pravolinijskog kretanja tela, ugao α , između pravca delovanja sile i horizontale, varira kao $\alpha = a * s$, gde je a konstanta, a s pređeni put datog tela u odnosu na početni trenutak. Naći brzinu tela u funkciji ugla α .



Na slici ispod vidi se tok rešavanja zadatka. Dakle, na prvom mestu projektovati sve sile na x osu, zatim iskoristiti jedno "malo" proširenje izvoda, a zatim izvršiti integraciju u granicama od 0 do ϑ i od 0 do s , analogno prethodnom zadatku.

Predmet: Fizika 1

Računske vežbe (Termin: 27.3.2020)

Predmetni asistent na računskim vežbama: Violeta Stanković

$$m \frac{d^2 x}{dt^2} = F \cos \alpha = F \cos(as)$$
$$\neq \frac{d^2 x}{dt^2} = a_x$$
$$\left. \begin{array}{l} \vec{a} = \frac{d\vec{v}}{dt} \\ \vec{v} = \frac{d\vec{s}}{dt} \end{array} \right\} \Rightarrow \frac{dv}{ds} \cdot \frac{ds}{dt} = \frac{dv}{dt}$$
$$m \frac{dv}{ds} \frac{ds}{dt} = F \cos(as)$$
$$m v dv = F \cos(as) ds \quad / \int$$
$$m \int_0^v v dv = F \int_0^s \cos(as) ds$$
$$m \frac{v^2}{2} = \frac{F \sin(as)}{a}$$
$$v^2 = \frac{2F \sin(as)}{am}$$
$$\boxed{v} = \sqrt{\frac{2 m g \sin(as)}{3 a m}} = \sqrt{\frac{2 g \sin \alpha}{3 a}}$$

$\neq as = t \quad \left\{ \begin{array}{l} s=0 ; t=0 \\ s=s ; t=as \end{array} \right.$

$$ds = \frac{1}{a} dt$$
$$\int_0^{\infty} \cos t \frac{dt}{a} = \frac{\sin t}{a}$$